









Γράψε το όνομά σου: .....



Δημιούργησε τον χάρτη της πόλης σύμφωνα με τις οδηγίες:

A2=  Γ4=  B3=   
A4=  B1=  Δ2= 

	1	2	3	4
A				
B				
Γ				
Δ				